

Nom :
Prénom :

THEME2
Suivre une démarche de projet

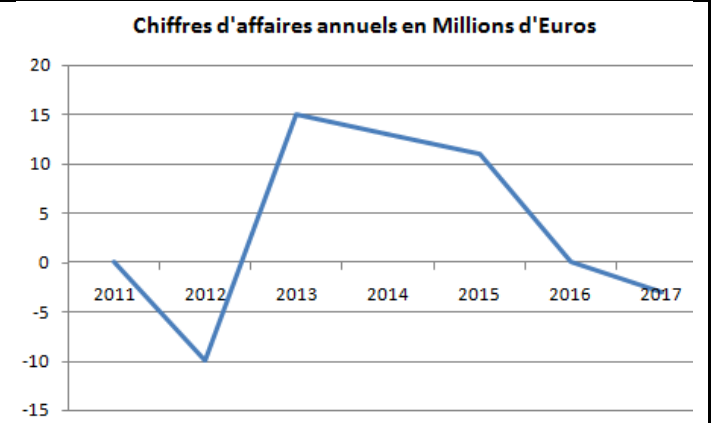
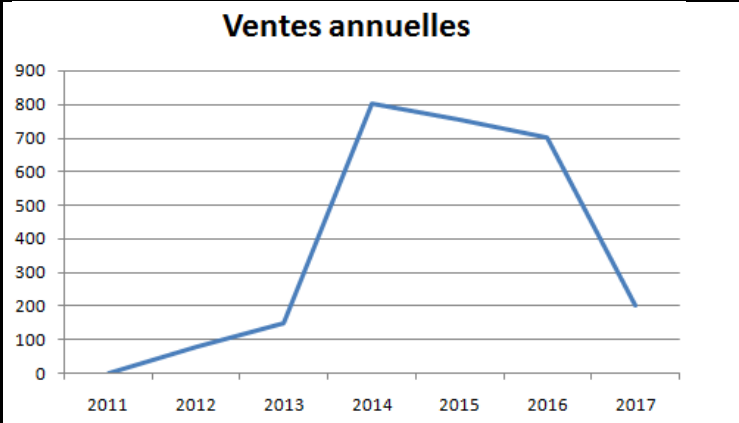
3S2 – Doc3



Equipe :

Cycle de vie économique - Durée de vie d'un produit

Vous trouverez ci-dessous 2 graphiques représentant l'évolution des ventes et des profits réalisés par une entreprise pour un de ces robots.



4.1) A partir de quelle année les ventes fléchissent ?pourquoi ?

.....
.....

4.2) A quelles dates le produit coûte-t-il le plus cher à l'entreprise qu'il ne lui rapporte ? Pourquoi ?

.....
.....

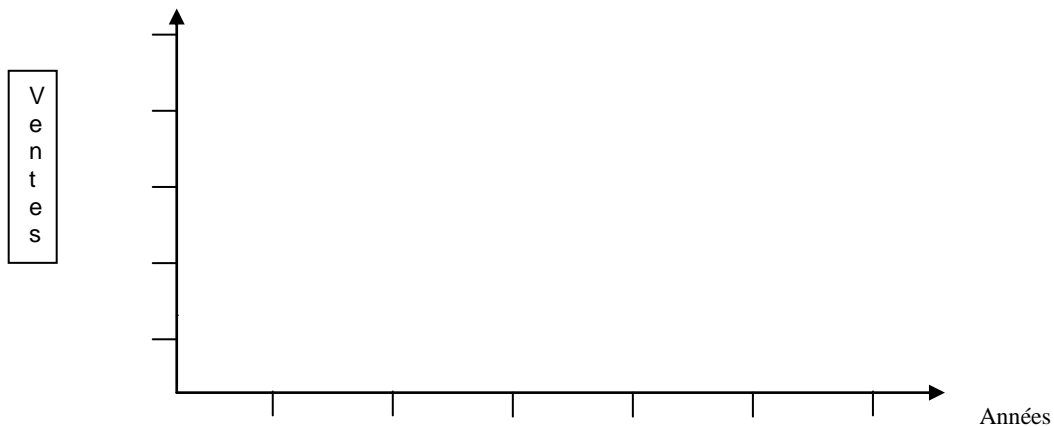
4.3) Quelles décisions faut-il prendre lorsque les ventes d'un produit fléchissent ?

.....
.....

5) Voici les résultats des ventes obtenus par une entreprise spécialisée dans la fabrication de robots-aspirateurs entre les années 2011 et 2015.

	2011	2012	2013	2014	2015	2016
Ventes	0	10 000	45 000	80 000	85 000	10 000

5.1) Réalisez le graphique des ventes.



5.2) comparez le graphique obtenu par rapport au graphique 1
Quelles conclusions pouvez-vous apporter ?

.....
.....

5.3) Décomposez ce graphique en 4 parties sur le graphique obtenu : **lancement – croissance – maturité – déclin**