










Nom : Prénom :	TECHNOLOGIE CYCLE 4 NIVEAU 5°	S3-doc1 1/2	
Evolution de l'objet technique	S3 : Comment l'habitat a évolué dans le temps ?		

Travail demandé : A partir des documents ressources mis à votre disposition, complétez le tableau suivant en indiquant pour chacun des types d'habitats, l'époque et la lignée auxquelles il appartient ainsi que le besoin auquel il répond.

Illustration de l'habitat	Type d'habitat	Epoque	Lignée	Besoin
	Habitat avec des peaux d'animaux.
	Habitat avec des végétaux.
	Maison romaine
	Maison gauloise
	Château fort
	L'habitation paysanne

Nom : Prénom :	TECHNOLOGIE CYCLE 4 NIVEAU 5°	S3-doc1 2/2	
Evolution de l'objet technique	S3 : Comment l'habitat a évolué dans le temps ?		

(suite)

Illustration de l'habitat	Type d'habitat	Epoque	Lignée	Besoin
	Maisons Ou appartements
	Châteaux (résidences d'agrément et de prestige).
	Immeuble Haussmannien (aménagement des installations et amélioration des infrastructures)
	Bâtiment de logements (plusieurs d'étages)
	Lotissement d'habitations
	Maison intelligente et respectueuse de l'environnement